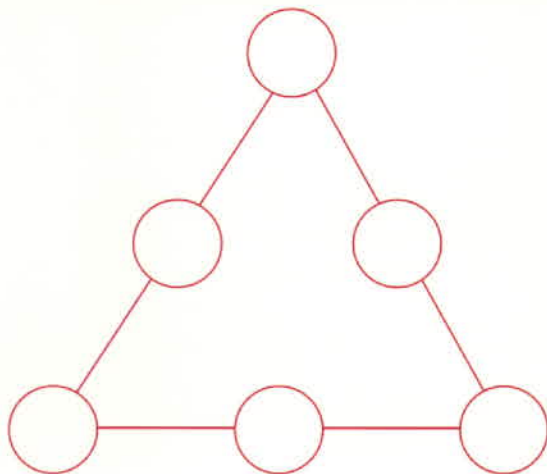





Setze die Zahlen von 1 bis 6 in die Kreise ein.
Die Summe auf jeder Seite soll immer gleich groß sein.



1, 2, 3, 4, 5, 6, in die 

Immer gleich viel



Wie viele Möglichkeiten findest du?

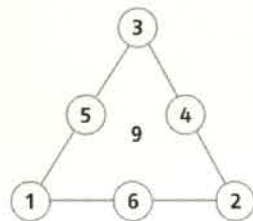
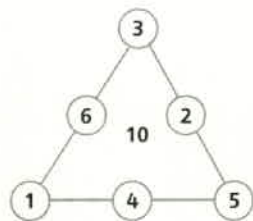
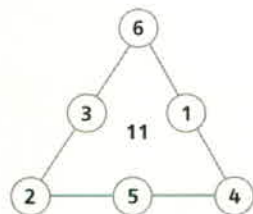
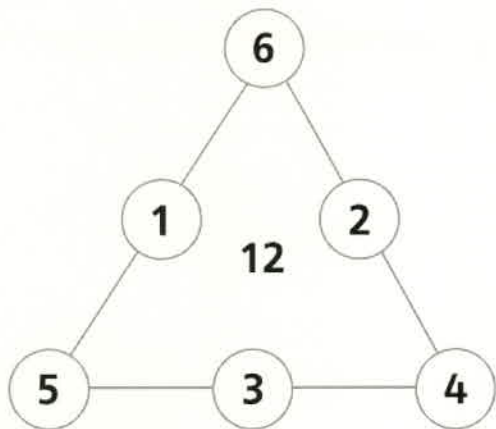
Wie ist es mit den Zahlen 1, 2, 3, 5, 6 und 7?

Wie mit 1, 2, 3, 4, 6 und 7?





Setze die Zahlen von 1 bis 6 in die Kreise ein.
Die Summe auf jeder Seite soll immer gleich groß sein.



Wie viele Möglichkeiten findest du?

Es gibt vier Möglichkeiten: Die Summen 9, 10, 11 oder 12.

Wie ist es mit den Zahlen 1, 2, 3, 5, 6 und 7?

Es gibt zwei Möglichkeiten: Die Summe 10 oder 14.

Wie mit 1, 2, 3, 4, 6 und 7?

Es gibt zwei Möglichkeiten: Die Summe 11 oder 12.