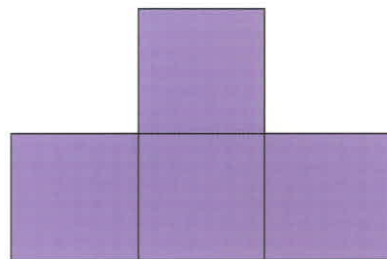





Versuche mit diesen drei Formen verschiedene Figuren zu bauen, die Spiegelachsen besitzen.

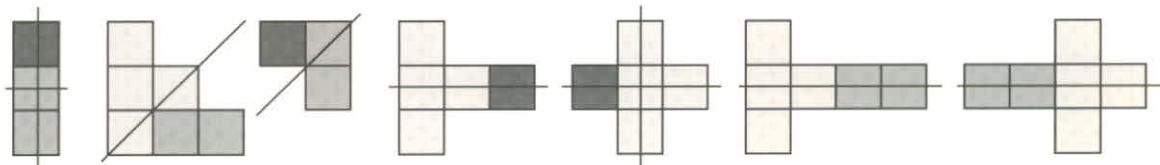


Welche Figuren findest du?



1. Die Figuren selbst besitzen eine Spiegelachse.

2. Figuren aus zwei Teilen:



3. Figuren aus drei Teilen:

