
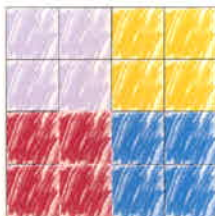




Ergänze die fehlenden Zahlen.

13		3	16
8			
12	7		9
1	14	15	

Bilde die Summe der Zahlen in den vier jeweils gleich gefärbten Feldern.




Wie heißt die magische Zahl?



Ergänze die fehlenden Zahlen.

13	2	3	16
8	11	10	5
12	7	6	9
1	14	15	4

Bilde die Summe der Zahlen in den vier jeweils gleich gefärbten Feldern.



Wie heißt die magische Zahl? 34