
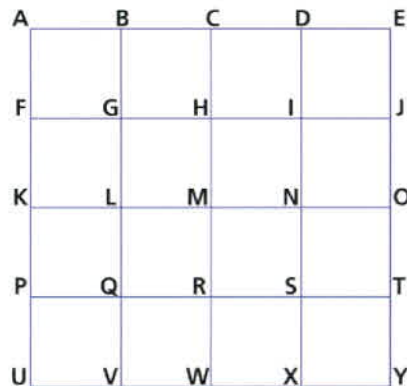
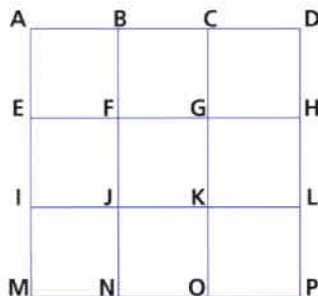




Der Postbote von Gitterstadt fängt seine Runde immer bei A an und hört auch bei A wieder auf. Welches ist sein kürzester Weg?



Wie ist es bei diesen Städten?



Male noch andere Städte.





Der Postbote von Gitterstadt fängt seine Runde immer bei A an und hört auch bei A wieder auf. Welches ist sein kürzester Weg?

Es gibt viele Möglichkeiten. Der kürzeste Weg ist zehn Wegstrecken lang.



Wie ist es bei diesen Städten?

Es gibt viele Möglichkeiten. Kürzester Weg links: 16 Wegstrecken; kürzester Weg rechts: 26 Wegstrecken.



Male noch andere Städte.