
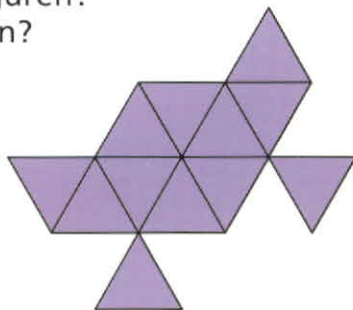
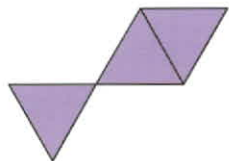
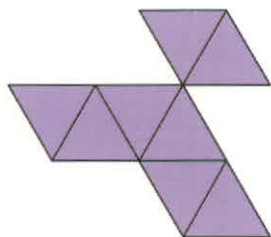
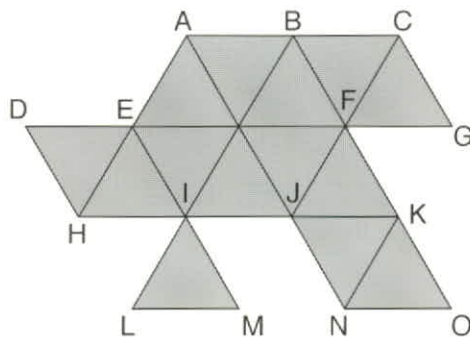



Diese Figur erhältst du, wenn du die Figur an der Geraden KN spiegelst:



Aber wie erhältst du die anderen Figuren?
An welcher Gerade musst du spiegelst?





Diese Figur erhältst du, wenn du die Figur an der Geraden KN spiegelst:



Aber wie erhältst du die anderen Figuren?
An welcher Gerade musst du spiegeln?

