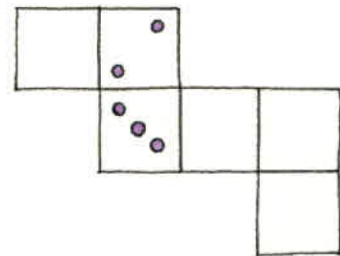
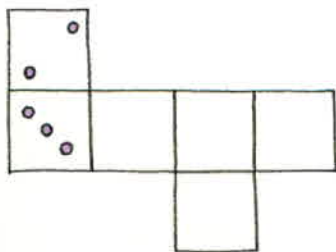
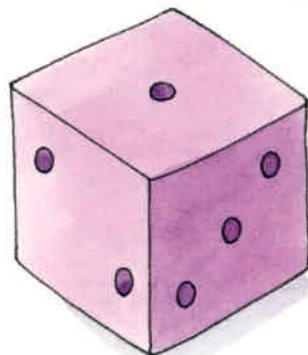
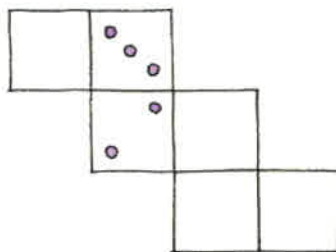
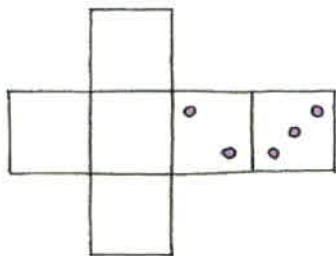




Wie sehen die Netze dieses Würfels aus?  
 Tipp: Vergiss nicht, dass die Summe der Zahlen  
 auf gegenüberliegenden Würfelseiten  
 immer sieben ist!





Wie sehen die Netze dieses Würfels aus?  
 Tipp: Vergiss nicht, dass die Summe der Zahlen  
 auf gegenüberliegenden Würfelseiten  
 immer sieben ist!

