
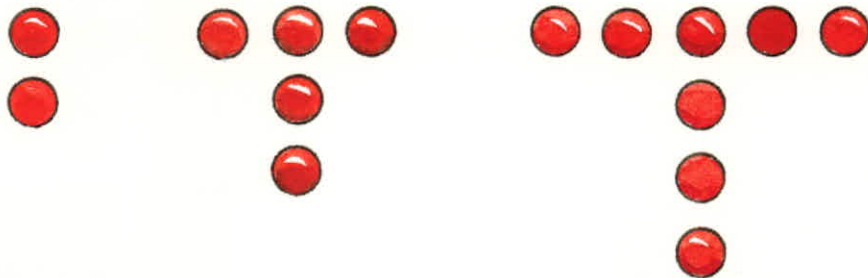




Wie geht es weiter? Wie viele Plättchen brauchst du?



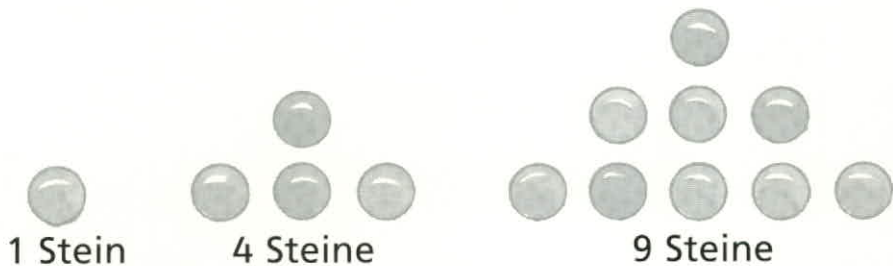
Und bei diesen?





Wie geht es weiter? Wie viele Plättchen brauchst du? 1, 4, 9, 16, 25, ...

Regel:
Quadratzahlen



Und bei diesen? 2, 5, 8, 11, 14, ... Regel: immer + 3

